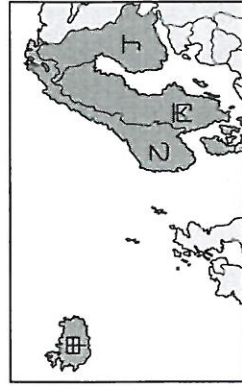


彰化縣福興國中一一一學年度第一學期社會科九年級補考題庫

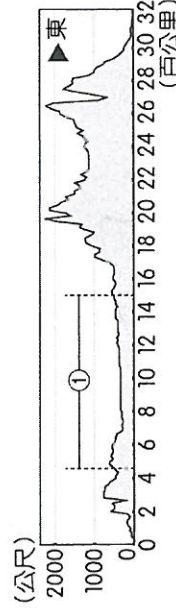
一、單題

- (D)考古學家在古羅馬帝國遺址發現了西元 1 世紀左
右的文獻，這份文獻是以當時通用的哪一種文字
所寫成？ (A)希臘文 (B)英文 (C)阿拉伯文
(D)拉丁文。
- (B)俄羅斯的莫斯科經濟發展迅速，吸引全世界的目
光。請問：當地的氣候類型為何？ (A)溫帶海洋
性氣候 (B)溫帶大陸性氣候 (C)溫帶地中海型
氣候 (D)寒帶氣候。
- (D)北歐的芬蘭利用天然的冰蝕湖和當地盛產的針葉
林發展出著名的芬蘭浴，是旅遊當地的觀光客必
定體驗的活動。請問：芬蘭位於附圖中何處？

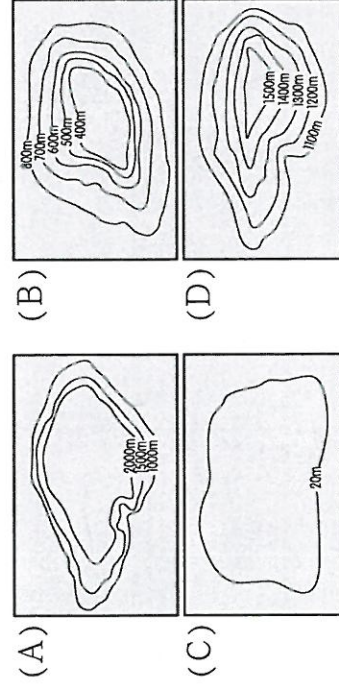


- (A)甲 (B)乙 (C)丙 (D)丁。


- (B)附圖是赤道附近的非洲地形剖面圖，請問：①的
地形類型最可能為下列哪一張等高線圖？



▲赤道附近的非洲地形剖面圖

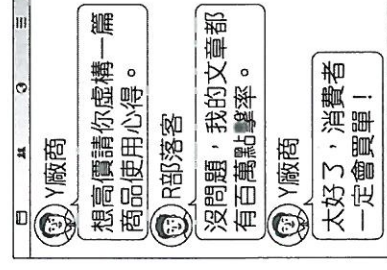


- (C)中南美洲的亞馬孫盆地面積廣大。請問：當地主
要分布的天然植被為下列何者？ (A)莽原 (B)
漠地 (C)雨林 (D)針葉林。
- (B)下列何種行為將獲取「銷貨收入」？ (A)小蓮到
補習班聽英文課 (B)阿南在網路上賣手工飾品
(C)小登僱用了一位工讀生 (D)阿峰到便利商店
打工。
- (B)張先生將每個月的生活費扣除之後，每個月都會
固定存一筆錢在銀行裡，以備不時之需。上述說
明貨幣具有哪一種功能？ (A)價值衡量 (B)價
值儲藏 (C)債務清償 (D)交易媒介。
- (A)公民老師以時事新聞融入課程，讓同學對於匯率
的變動印象更深刻，如附圖。請問：(甲)處應為下
列何者？



- (A)出口商 (B)進口商 (C)赴美旅遊的臺灣人
(D)在臺留學的日本人。

- (D)廠商聘請某知名部落客寫商品推薦文，引導消費
者購買，是常見的行銷策略。請問：附圖中危害
消費者權益的行為，受哪一法律所規範？



- (A)《消費者保護法》 (B)《食品安全衛生管理
法》 (C)《社會秩序維護法》 (D)《公平交易
法》。

- (C) 漠南非洲的傳統產業多為自給自足的農牧業，其
種類不包括下列何者？ (A)游耕 (B)採集 (C)
放牧 (D)漁獵。
- (C) 西方最早從事尋找新航路的國家為何？ (A)英國
(B)挪威 (C)葡萄牙 (D)德國。
- (C) 雪炫陪媽媽至超市買菜時，發現青菜上標示了產
銷履歷，透過網路搜尋後得知產銷履歷包含了標
草、品名、追溯碼、資訊公開方式、驗證機構名
稱等資訊。由上述內容可知，產銷履歷是幫助消
費者獲得下列何者？ (A)合理的價格 (B)良好
的服務 (C)優質的勞動成果 (D)免費的贈品。
- (D) 北美洲哪一個地區最容易受到來自海上的熱帶性
低氣壓影響，形成強烈的颶風，造成人員及財產
的重大損失？ (A)洛磯山脈 (B)哈得孫灣區 (C)
太平洋沿岸 (D)墨西哥灣區。
- (C) 附圖為印加古文明照片。請問：照片中的山脈為
下列何者？



- (A)洛磯山脈 (B)阿帕拉契山脈 (C)安地斯山
脈 (D)阿爾卑斯山。

- (D) 熱帶雨林對於地球溫度的調節相當重要，因此熱
帶雨林的保護已成為刻不容緩的工作。請問：目
前世界最大的熱帶雨林區位於下列何處？ (A)剛

果盆地 (B) 南洋群島 (C) 西伯利亞 (D) 亞馬孫盆地。

16. (D) 位於北非的利比亞曾與義大利簽署協議，合作打擊偷渡活動，但因近年來利比亞政局動盪而成效不佳，因而使兩國相隔的哪一個海域上的偷渡客暴增？ (A) 大西洋 (B) 北海 (C) 黑海 (D) 地中海。

17. (A) 西元 16 世紀，曾經有一位科學家提出「太陽為宇宙中心」的觀點，說明地球並非宇宙的中心。請問：此科學家是下列何人？ (A) 哥白尼 (B) 笛卡兒 (C) 伽利略 (D) 牛頓。

18. (A) 小怡正在閱讀的書中說到：「真主阿拉是唯一的宇宙之神，並訂下各項日常生活所應遵守的規範。」請問：小怡正在閱讀的書籍為下列何者？ (A) 《古蘭經》 (B) 《新約》 (C) 《舊約》 (D) 《聖經》。

19. (B) 下列哪一條河川的出海口位於荷蘭鹿特丹，有利於轉口貿易的發展？ (A) 多瑙河 (B) 萊茵河 (C) 波河 (D) 塞納河。

20. (B) 為了解失業對個人和家庭造成的影響，書婷打算對失業者進行訪談，下列何人應是她訪談的對象？

(A)

今年高職畢業後，我將出國學習觀光管理。



(B)

公司解散後，我一直在應徵新工作。



(C)

我負責在家照顧小孩，讓太太出外工作無後顧之憂。



(D)

下個月，我要替同學舉辦退休聯誼會。



21. (A) 美國的工業相當發達，為世界八大工業國之一。請問：該國主要的傳統重工業區分布於下列何處？ (A) 五大湖區 (B) 中部平原 (C) 南部沿海 (D) 西部山區。

22. (C) 2008 年諾貝爾經濟學獎得主克魯曼教授前往美國金融重鎮訪問，希望找出經濟衰退的主因。請問：他前往的都市最可能為下列何者？ (A) 洛杉磯 (B) 舊金山 (C) 紐約 (D) 休士頓。

23. (B) 中南美洲有許多我國重要的邦交國。請問：該地區以哪一個國家為界，分為中美洲及南美洲？ (A) 墨西哥 (B) 巴拿馬 (C) 巴拉圭 (D) 巴西。

24. (D) 某電視臺正籌畫拍攝以希臘化時代為背景的紀錄片，下列何人可能出現在影片中？ (A) 荷馬 (B) 蘇格拉底 (C) 柏拉圖 (D) 歐幾里德。

25. (B) 歐俄為俄羅斯境內經濟最為發達的地區。請問：當地主要的地形主體為下列何者？ (A) 高原 (B) 平原 (C) 盆地 (D) 山地。

26. (A) 學校召開班代會議，由附圖對話判斷，各班代表最可能是面臨何種問題而進行討論？

使用籃球場當然是先占先贏啊。



701 班代

可是我們教室比較遠，還是抽籤最公平。



708 班代

應該輪流使用，免得籤運差的都抽不到。



702 班代

(A) 資源分配 (B) 校園霸凌 (C) 性別歧視 (D) 師生衝突。

27. (B) 馬拉威湖、維多利亞湖位於東非大裂谷附近，其湖泊成因為何？ (A) 冰蝕湖 (B) 斷層湖 (C) 火山湖 (D) 河蝕湖。

28. (C) 永平出國旅行時喜歡在各國重要景點打卡，跟朋友分享，某天他臉書的動態如附圖所示。請問：永平前往的國家為何？



(A) 荷蘭 (B) 英國 (C) 比利時 (D) 義大利。

29. (D) 「羅馬不是一天造成的」、「一條條大路通羅馬」，這些諺語表現了古羅馬哪方面的文化特質？ (A) 追求藝術美感 (B) 重視人神關係 (C) 重視法律，編寫法典 (D) 善於公共工程的建設。

30. (B) 今天，當人們希望初步了解某項事物時，常會為了方便借助網路上的「維基百科」等網站；在沒有線上百科的時代，則是借助大英百科全書等「百科全書」類的工具書。請問：開創此類著作風氣的是哪一位學者？ (A) 伏爾泰 (B) 狄德羅 (C) 亞當斯密 (D) 孟德斯鳩。

31. (D) 下列何者可用來說明機會成本的概念？ (A) 船到橋頭自然直 (B) 水能載舟，亦能覆舟 (C) 沒有魚，蝦也好 (D) 天底下沒有白吃的午餐。

32. (B) 公民課時老師針對廠商之間的競爭方式做講解，之後請同學回答「非價格競爭」的舉例，下列何人的回答有誤？ (A) 小芹：多元化服務 (B) 佩珊：商品買二送一 (C) 花花：集點兌換商品 (D) 家齊：提升企業形象。

33. (C) 此宗教原為西元前 2000 年西亞地區某個游牧民族的信仰，卻對後來基督教、伊斯蘭教的教義發展有重大影響。上述是指下列哪一古老宗教？ (A) 天主教 (B) 佛教 (C) 猶太教 (D) 祆教。

34. (D) 冰河侵蝕所造成的深邃峽灣景色壯麗，許多國際郵輪皆喜歡航行此區，以便遊客欣賞沿岸的風光。請問：歐洲的哪一個地區由於受到冰河作用侵蝕的影響，因此出現許多秀麗壯觀的峽灣地形？ (A) 東歐 (B) 西歐 (C) 南歐 (D) 北歐。

35. (B) 南非前總統曼德拉在 2013 年逝世後，聯合國將他的生日 7 月 8 日訂為「曼德拉紀念日」，以表彰他為和平及自由所作出的貢獻。請問：曼德拉對南非最偉大的意義為何？ (A) 促成亞斯文高壩的

建立 (B)結束白人執政的局面 (C)增加國內所得 (D)重繪國界疆域。

36. (D)下列哪一地區的人口總數約 11 億人，占全球 14%
，經濟生產總值約占全球 2%？ (A)東亞 (B)
南亞 (C)北非 (D)漠南非洲。

37. (C)在西元前 1500 年左右，來自印度西北方的阿利安
人入侵印度河流域，建立政權。當時阿利安人所
信奉的宗教為下列何者？ (A)祆教 (B)佛教 (C)
婆羅門教 (D)猶太教。

38. (D)河川的流量多寡和當地的降水情況關係甚大。請
問：世界流量最大的亞馬孫河位於哪一種氣候區
內？ (A)熱帶莽原氣候 (B)熱帶季風氣候 (C)
溫帶海洋性氣候 (D)熱帶雨林氣候。

39. (D)漠南非洲大陸的疆域三面臨海，該地區的東、西
兩岸分別面臨哪一個大洋，有利於今日對外的航
運交通？ (A)東—太平洋；西—印度洋 (B)東
—印度洋；西—太平洋 (C)東—大西洋；西—印
度洋 (D)東—印度洋；西—大西洋。

40. (C)在我國，哪一個金融機構負責發行法定貨幣，且
其往來的對象僅限政府機關與金融機構？ (A)合
作金庫 (B)臺灣銀行 (C)中央銀行 (D)彰化銀
行。

一、 單題

- | | | | | |
|--------|--------|--------|--------|--------|
| 1.(D) | 2.(B) | 3.(D) | 4.(B) | 5.(C) |
| 6.(B) | 7.(B) | 8.(A) | 9.(D) | 10.(C) |
| 11.(C) | 12.(C) | 13.(D) | 14.(C) | 15.(D) |
| 16.(D) | 17.(A) | 18.(A) | 19.(B) | 20.(B) |
| 21.(A) | 22.(C) | 23.(B) | 24.(D) | 25.(B) |
| 26.(A) | 27.(B) | 28.(C) | 29.(D) | 30.(B) |
| 31.(D) | 32.(B) | 33.(C) | 34.(D) | 35.(B) |
| 36.(D) | 37.(C) | 38.(D) | 39.(D) | 40.(C) |